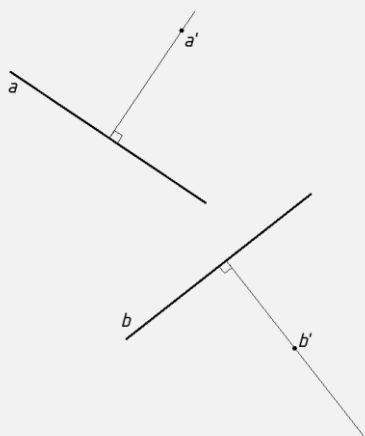


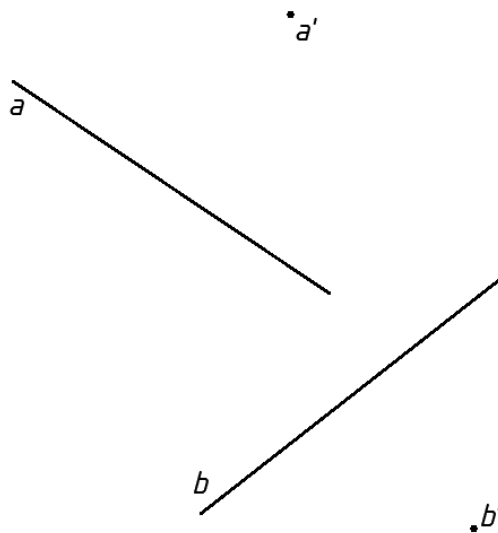
Primjer 1 - Uporaba pribora za tehničko crtanje

Slika prikazuje dva pravca (a) i (b), na koje je potrebno konstruirati okomice koje prolaze kroz točke (a') i (b').

a)

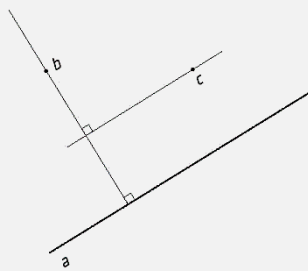


Prostor za crtanje



Slika prikazuje pravac (a). Na taj pravac konstruiraj okomicu koja prolazi kroz točku (b) i drugu okomicu koja prolazi kroz točku (c).

b)



Prostor za crtanje

